

Vzdělávací materiál projektu Zlepšení podmínek výuky v ZŠ Sloup

Název vzdělávacího materiálu	Naše vlast – Česká republika
Anotace	Pracovní listy k procvičování základních informací o České republice.
Autor	Mgr. Iva Paděrová
Jazyk	Český jazyk
Očekávaný výstup	Žák se naučí základní informace o České republice.
Třída	4. – 5.

Naše vlast – Česká republika (ČR)

Česká republika je stát ležící uprostřed Evropy. Jde o vnitrozemský stát, který sousedí se čtyřmi státy: s Polskem, Slovenskem, Rakouskem a Německem. V historii se území České republiky dělilo na tři historické země – Čechy, Moravu a Slezsko, dnes se člení do 14 krajů (Praha, Středočeský kraj, Jihočeský kraj, Plzeňský kraj, Karlovarský kraj, Ústecký kraj, Liberecký kraj, Královéhradecký kraj, Pardubický kraj, kraj Vysočina, Jihomoravský kraj, Olomoucký kraj, Zlínský kraj, Moravskoslezský kraj). V České republice žije 10,5 milionů obyvatel, jsou to Češi, Moravané a Slezané. Úředním jazykem je čeština. Hlavním městem je Praha, kde sídlí prezident, vláda a Parlament. Česká republika vznikla 1. ledna 1993 po rozpadu Československa. Od 1. května 2004 je náš stát členským státem Evropské unie (EU). Ta usiluje o sjednocení všech evropských zemí.



Česká republika



Slovensko



Polsko



Německo



Rakousko

Doplňuj, nápovědu hledej výše v textu:

V které části Evropy leží Česká republika? _____

Je ČR stát vnitrozemský nebo přímořský? _____

Pokus se vysvětlit, co znamená vnitrozemský: _____

Vyjmenuj 4 sousední státy: _____

Zakroužkuj správné číslo: Česká republika má 4, 14, 40, 44 krajů.

Pokus se alespoň 7 krajů vypsát: _____

Kolik obyvatel žije v ČR? _____

Jaký je náš úřední jazyk? _____

Co se stalo 1. ledna 1993? _____

Co se stalo 1. května 2004? _____

Jak se nazývá hlavní město ČR? _____

Z mapy vypiš několik měst ČR: _____

Jak se jmenuje náš současný prezident? _____



1



2



3



4

Napiš názvy vlajek sousedních států:

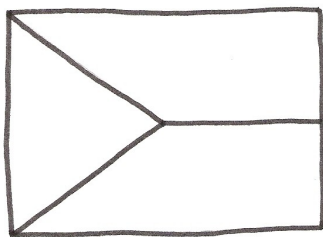
1. _____

2. _____

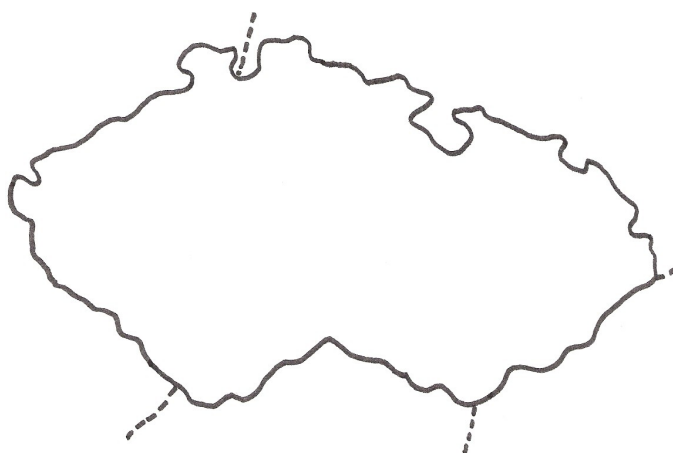
3. _____

4. _____

Vymaluj správně vlajku ČR:



Doplň Správně názvy sousedních států do slepé mapy:



Naše vlast – Česká republika (ČR) - řešení

Doplňuj, nápovědu hledej výše v textu:

V které části Evropy leží Česká republika? ve střední Evropě

Je ČR stát vnitrozemský nebo přímořský? vnitrozemský

Pokus se vysvětlit, co znamená vnitrozemský: stát, který je obklopen pevninou

Vyjmenuj 4 sousední státy:

*Slovensko
Rakousko
Německo
Polsko*

Zakroužkuj správné číslo: Česká republika má 4, 14, 40, 44 krajů.

Pokus se alespoň 7 krajů vypsát:

<i>Praha</i>	<i>Královéhradecký</i>
<i>Středočeský</i>	<i>Pardubický</i>
<i>Jihočeský</i>	<i>Vysočina</i>
<i>Plzeňský</i>	<i>Jihomoravský</i>
<i>Karlovarský</i>	<i>Olomoucký</i>

Ústecký
Liberecký

Zlínský
Moravskoslezský

Kolik obyvatel žije v ČR? **10,5 milionu**

Jaký je náš úřední jazyk? **čeština**

Co se stalo 1. ledna 1993? **rozpad Československa na 2 samostatné státy Českou republiku a Slovensko**

Co se stalo 1. května 2004? **Česká republika se stala členským státem Evropské unie**

Jak se nazývá hlavní město ČR? **Praha**

Z mapy vypiš několik měst ČR: **Praha, Brno, Ostrava, Olomouc, Plzeň, České Budějovice, Ústí nad Labem, Děčín, Liberec, Hradec Králové**

Jak se jmenuje náš současný prezident? **Václav Klaus**



1



2



3

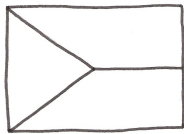


4

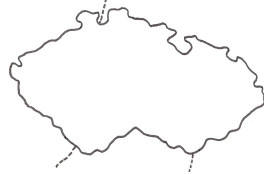
Napiš názvy vlajek sousedních států:

- | | |
|-------------------|---------------------|
| 1. Polsko | 3. Slovensko |
| 2. Německo | 4. Rakousko |

Vymaluj správně vlajku ČR:



Doplň Správně názvy sousedních států
do slepé mapy:



**vlevo modrá barva
nahore bílá barva
dole červená barva**

**S – Polsko
V - Slovensko
J - Rakousko
Z - Německo**